

Appello di  
**RETI RADIOMOBILI / RETI RADIOMOBILI I** del 15 Aprile 2010  
(tempo 90 minuti)

Cognome \_\_\_\_\_ Nome \_\_\_\_\_ Matricola \_\_\_\_\_

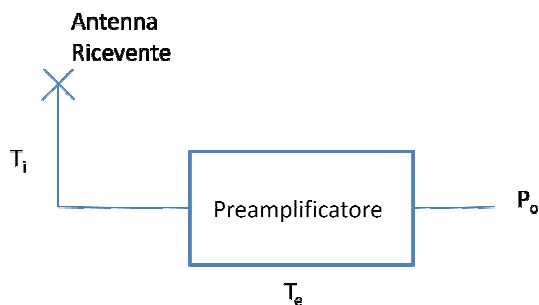
**ESERCIZIO 1.**

Si consideri un canale radiomobile GSM a 900 MHz caratterizzato dalla presenza di shadowing di parametro  $\sigma_s=18$  dB e dal seguente modello di path loss:

$$L_p(R[m]) = 26 + 35 \log R$$

dove  $R$  è la distanza tra trasmettitore (BTS) e ricevitore (MS).

Si ipotizzi l'uso di MS, all'interno di un'area di  $117 \text{ km}^2$  formata da 81 celle circolari, caratterizzati da una potenza di rumore di uscita  $P_o$  pari a  $-122$  dBW composta da un'antenna puntata in una direzione tale da avere una temperatura di rumore ( $T_i$ ) di  $320^\circ \text{ K}$  e da un preamplificatore che ha una figura di rumore  $F$  pari a  $1,7$  dB come mostrato nella figura di seguito.



Se ne determini il guadagno.

Si assuma un rapporto  $S/N_0$  minimo per avere qualità accettabile della comunicazione pari a  $\gamma_s=7$  dB. Si valuti la potenza necessaria al trasmettitore affinché la probabilità di outage ( $P_{out}$ ) sia minore di 0.05 assumendo un sistema cellulare che prevede il riuso di 9 cluster all'interno del territorio considerato. Si consideri un guadagno d'antenna in trasmissione  $G_T=1$  dB e si trascurino le perdite nei collegamenti antenna/ricevitore, antenna/trasmettitore.

Considerando il SIR pari al valore di  $S/N_0$  si determini l'esponente della path loss della componente dovuta dalla distanza di rottura in poi.

Quanti canali occorrerebbero al sistema se si volesse mantenere una probabilità di blocco del 6% e se si supponesse che ogni cella del sistema è capace di gestire un traffico offerto di 1 Erlang?

A quanto ammonterebbe l'efficienza del sistema considerando i parametri di traffico sopra descritti?

Considerando l'area geografica di copertura dell'intero sistema ed i parametri di copertura calcolati ai punti precedenti calcolare la densità massima di utenti contemporaneamente attivi nel sistema?

A quale distanza dalla BTS si troverebbe un ostacolo la cui estremità dista dalla linea di vista 2 metri ed è posto tra la BTS (alta 20 metri) e la MS (alta 1 metro) se la loss per Fresnel fosse pari a 2 dB?

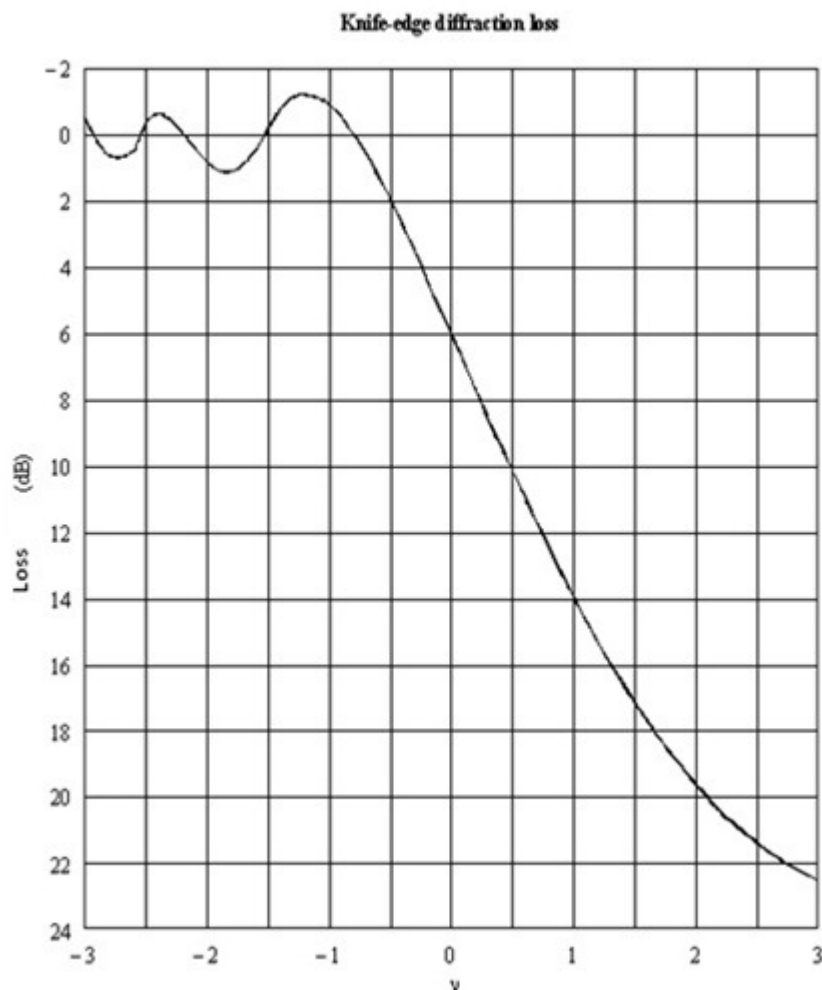
### ESERCIZIO 2.

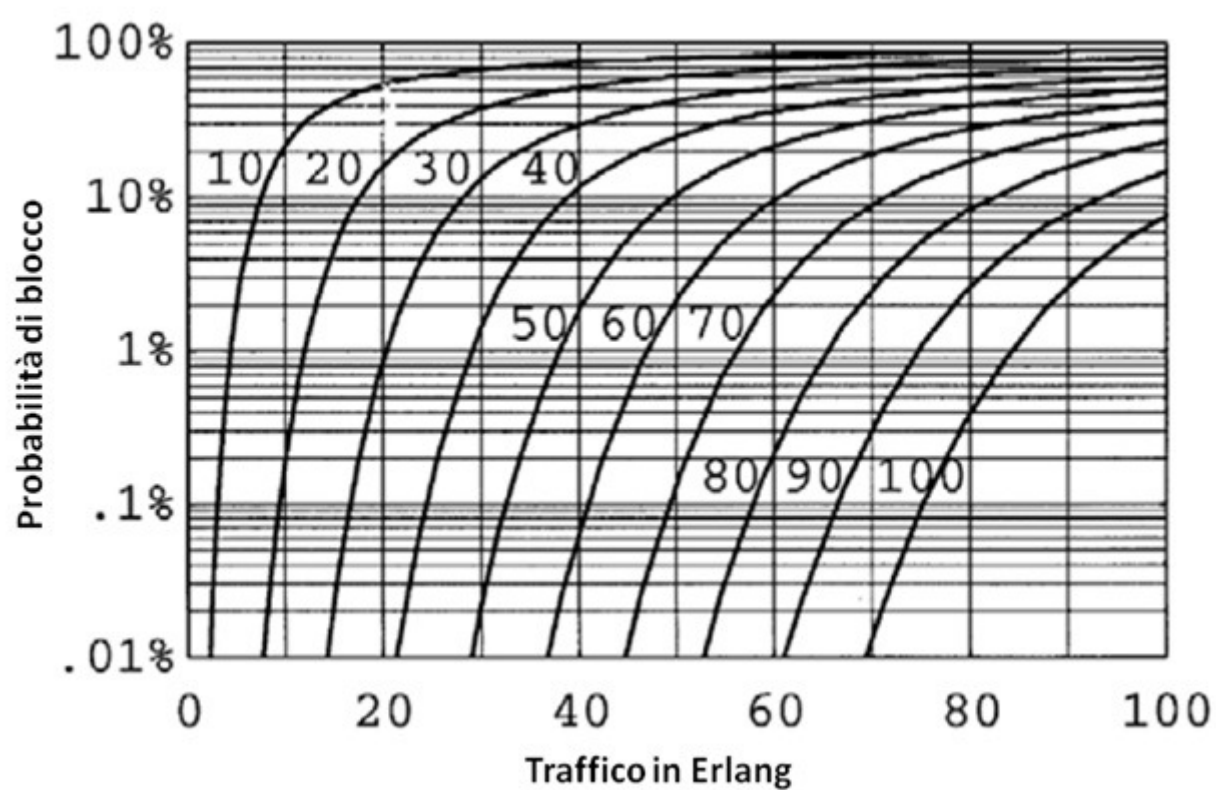
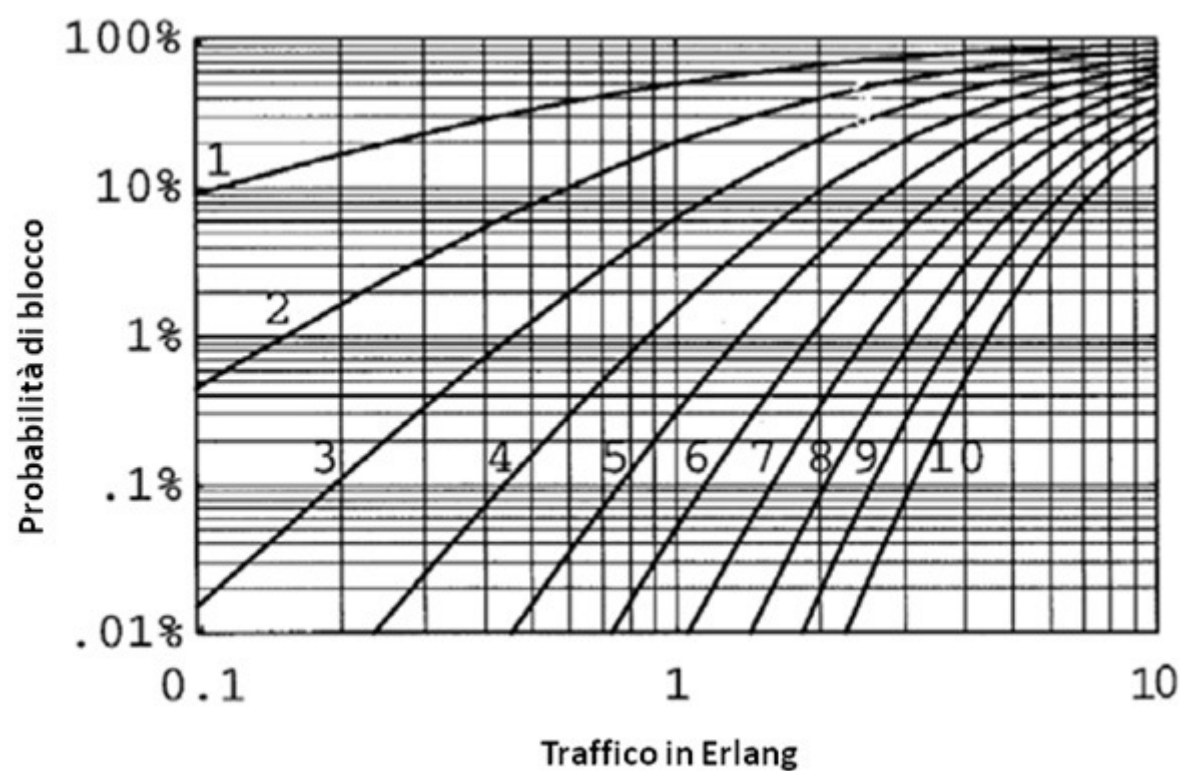
Si calcoli il valore del rapporto segnale/interferente e la dimensione del cluster di una rete cellulare nelle seguenti ipotesi:

- Celle trisetorializzate;
- $P(100\text{m}) = -35 \text{ dBm}$ ;
- $P_{\text{th}} = -80 \text{ dBm}$ ;
- Shadowing lognormale,  $\sigma_{\text{dB}} = 5 \text{ dB}$ ;
- $P_{\text{outage}} = 1.5\%$ ;
- Fattore di attenuazione  $\eta = 3.7$ ;
- Distanza di riuso  $D = 3836.9 \text{ m}$ .

### ESERCIZIO 3.

Una cella radio GSM operante alla frequenza di 1800 MHz è caratterizzata da Slow Fading con  $\sigma = 5 \text{ dB}$  e da Fast Fading. Calcolare il raggio della cella nell'ipotesi di voler garantire una probabilità di outage, per entrambi i fenomeni di fading, dell'1%. Si assuma  $\eta = 4.1$ ;  $P_{\text{ricevuta}}(100\text{m}) = -20 \text{ dBm}$ , potenza minima accettabile al ricevitore  $P_{\text{th}} = -80 \text{ dBm}$ . Quanto varrebbe l'attenuazione dovuta ad un'ipotetica riflessione del terreno nell'assunzione di una BTS alta 20 metri ed una MS alta 1.2 metri? Considerando anche la riflessione del terreno quanto varrebbe ora il raggio della cella?





Complementary Error Function Table													
x	erfc(x)	x	erfc(x)	x	erfc(x)	x	erfc(x)	x	erfc(x)	x	erfc(x)	x	erfc(x)
0	1.000000	0.5	0.479500	1	0.157299	1.5	0.033895	2	0.004678	2.5	0.000407	3	0.00002209
0.01	0.988717	0.51	0.470756	1.01	0.153190	1.51	0.032723	2.01	0.004475	2.51	0.000386	3.01	0.00002074
0.02	0.977435	0.52	0.462101	1.02	0.149162	1.52	0.031587	2.02	0.004281	2.52	0.000365	3.02	0.00001947
0.03	0.966159	0.53	0.453536	1.03	0.145216	1.53	0.030484	2.03	0.004094	2.53	0.000346	3.03	0.00001827
0.04	0.954889	0.54	0.445061	1.04	0.141350	1.54	0.029414	2.04	0.003914	2.54	0.000328	3.04	0.00001714
0.05	0.943628	0.55	0.436677	1.05	0.137564	1.55	0.028377	2.05	0.003742	2.55	0.000311	3.05	0.00001608
0.06	0.932378	0.56	0.428384	1.06	0.133856	1.56	0.027372	2.06	0.003577	2.56	0.000294	3.06	0.00001508
0.07	0.921142	0.57	0.420184	1.07	0.130227	1.57	0.026397	2.07	0.003418	2.57	0.000278	3.07	0.00001414
0.08	0.909922	0.58	0.412077	1.08	0.126674	1.58	0.025453	2.08	0.003266	2.58	0.000264	3.08	0.00001326
0.09	0.898719	0.59	0.404064	1.09	0.123197	1.59	0.024538	2.09	0.003120	2.59	0.000249	3.09	0.00001243
0.1	0.887537	0.6	0.396144	1.1	0.119795	1.6	0.023652	2.1	0.002979	2.6	0.000236	3.1	0.00001165
0.11	0.876377	0.61	0.388319	1.11	0.116467	1.61	0.022793	2.11	0.002845	2.61	0.000223	3.11	0.00001092
0.12	0.865242	0.62	0.380589	1.12	0.113212	1.62	0.021962	2.12	0.002716	2.62	0.000211	3.12	0.00001023
0.13	0.854133	0.63	0.372954	1.13	0.110029	1.63	0.021157	2.13	0.002593	2.63	0.000200	3.13	0.00000958
0.14	0.843053	0.64	0.365414	1.14	0.106918	1.64	0.020378	2.14	0.002475	2.64	0.000189	3.14	0.00000897
0.15	0.832004	0.65	0.357971	1.15	0.103876	1.65	0.019624	2.15	0.002361	2.65	0.000178	3.15	0.00000840
0.16	0.820988	0.66	0.350623	1.16	0.100904	1.66	0.018895	2.16	0.002253	2.66	0.000169	3.16	0.00000786
0.17	0.810008	0.67	0.343372	1.17	0.098000	1.67	0.018190	2.17	0.002149	2.67	0.000159	3.17	0.00000736
0.18	0.799064	0.68	0.336218	1.18	0.095163	1.68	0.017507	2.18	0.002049	2.68	0.000151	3.18	0.00000689
0.19	0.788160	0.69	0.329160	1.19	0.092392	1.69	0.016847	2.19	0.001954	2.69	0.000142	3.19	0.00000644
0.2	0.777297	0.7	0.322199	1.2	0.089686	1.7	0.016210	2.2	0.001863	2.7	0.000134	3.2	0.00000603
0.21	0.766478	0.71	0.315335	1.21	0.087045	1.71	0.015593	2.21	0.001776	2.71	0.000127	3.21	0.00000564
0.22	0.755704	0.72	0.308567	1.22	0.084466	1.72	0.014997	2.22	0.001692	2.72	0.000120	3.22	0.00000527
0.23	0.744977	0.73	0.301896	1.23	0.081950	1.73	0.014422	2.23	0.001612	2.73	0.000113	3.23	0.00000493
0.24	0.734300	0.74	0.295322	1.24	0.079495	1.74	0.013865	2.24	0.001536	2.74	0.000107	3.24	0.00000460
0.25	0.723674	0.75	0.288845	1.25	0.077100	1.75	0.013328	2.25	0.001463	2.75	0.000101	3.25	0.00000430
0.26	0.713100	0.76	0.282463	1.26	0.074764	1.76	0.012810	2.26	0.001393	2.76	0.000095	3.26	0.00000402
0.27	0.702582	0.77	0.276179	1.27	0.072486	1.77	0.012309	2.27	0.001326	2.77	0.000090	3.27	0.00000376
0.28	0.692120	0.78	0.269990	1.28	0.070266	1.78	0.011826	2.28	0.001262	2.78	0.000084	3.28	0.00000351
0.29	0.681717	0.79	0.263897	1.29	0.068101	1.79	0.011359	2.29	0.001201	2.79	0.000080	3.29	0.00000328
0.3	0.671373	0.8	0.257899	1.3	0.065992	1.8	0.010909	2.3	0.001143	2.8	0.000075	3.3	0.00000306
0.31	0.661092	0.81	0.251997	1.31	0.063937	1.81	0.010475	2.31	0.001088	2.81	0.000071	3.31	0.00000285
0.32	0.650874	0.82	0.246189	1.32	0.061935	1.82	0.010057	2.32	0.001034	2.82	0.000067	3.32	0.00000266
0.33	0.640721	0.83	0.240476	1.33	0.059985	1.83	0.009653	2.33	0.000984	2.83	0.000063	3.33	0.00000249
0.34	0.630635	0.84	0.234857	1.34	0.058086	1.84	0.009264	2.34	0.000935	2.84	0.000059	3.34	0.00000232
0.35	0.620618	0.85	0.229332	1.35	0.056238	1.85	0.008889	2.35	0.000889	2.85	0.000056	3.35	0.00000216
0.36	0.610670	0.86	0.223900	1.36	0.054439	1.86	0.008528	2.36	0.000845	2.86	0.000052	3.36	0.00000202
0.37	0.600794	0.87	0.218560	1.37	0.052688	1.87	0.008179	2.37	0.000803	2.87	0.000049	3.37	0.00000188
0.38	0.590991	0.88	0.213313	1.38	0.050984	1.88	0.007844	2.38	0.000763	2.88	0.000046	3.38	0.00000175
0.39	0.581261	0.89	0.208157	1.39	0.049327	1.89	0.007521	2.39	0.000725	2.89	0.000044	3.39	0.00000163
0.4	0.571608	0.9	0.203092	1.4	0.047715	1.9	0.007210	2.4	0.000689	2.9	0.000041	3.4	0.00000152
0.41	0.562031	0.91	0.198117	1.41	0.046148	1.91	0.006910	2.41	0.000654	2.91	0.000039	3.41	0.00000142
0.42	0.552532	0.92	0.193232	1.42	0.044624	1.92	0.006622	2.42	0.000621	2.92	0.000036	3.42	0.00000132
0.43	0.543113	0.93	0.188437	1.43	0.043143	1.93	0.006344	2.43	0.000589	2.93	0.000034	3.43	0.00000123
0.44	0.533775	0.94	0.183729	1.44	0.041703	1.94	0.006077	2.44	0.000559	2.94	0.000032	3.44	0.00000115
0.45	0.524518	0.95	0.179109	1.45	0.040305	1.95	0.005821	2.45	0.000531	2.95	0.000030	3.45	0.00000107
0.46	0.515345	0.96	0.174576	1.46	0.038946	1.96	0.005574	2.46	0.000503	2.96	0.000028	3.46	0.00000099
0.47	0.506255	0.97	0.170130	1.47	0.037627	1.97	0.005336	2.47	0.000477	2.97	0.000027	3.47	0.00000092
0.48	0.497250	0.98	0.165769	1.48	0.036346	1.98	0.005108	2.48	0.000453	2.98	0.000025	3.48	0.00000086
0.49	0.488332	0.99	0.161492	1.49	0.035102	1.99	0.004889	2.49	0.000429	2.99	0.000024	3.49	0.00000080